
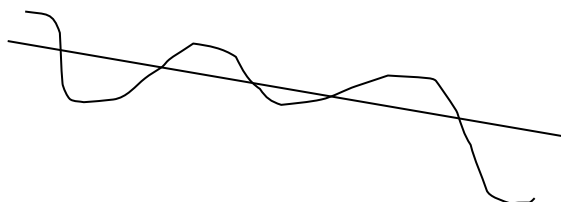
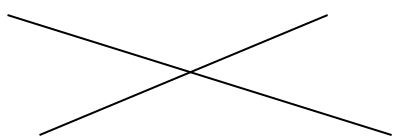


Ученик _____

1. Квадрате на слици обоји црвеном, кругове плавом, троуглове зеленом, а правоугаонике жутом бојом:




- 2) Доврши реченицу:



- а) на слици су нацртане линије које се _____
б) пресек нацртаних линија је _____
в) тачку обележавамо _____
г) обележи тачке на слици.

- 3) Нацртај две отворене и две затворене криве линије:

4. Изброј колико има: кругова ____ троуглова ____ правоугаоника ____



Решења:

- 1) Обоји фигуре назначеном бојом
- 2) а) секу
б) тачка
в) великим словима латинице
г) нацртати тачку
- 3) нацртати да једна крива линија буде отворена, а друга затворена (круг)
- 4) кругова 3
троуглова 2
правоугаоника 5