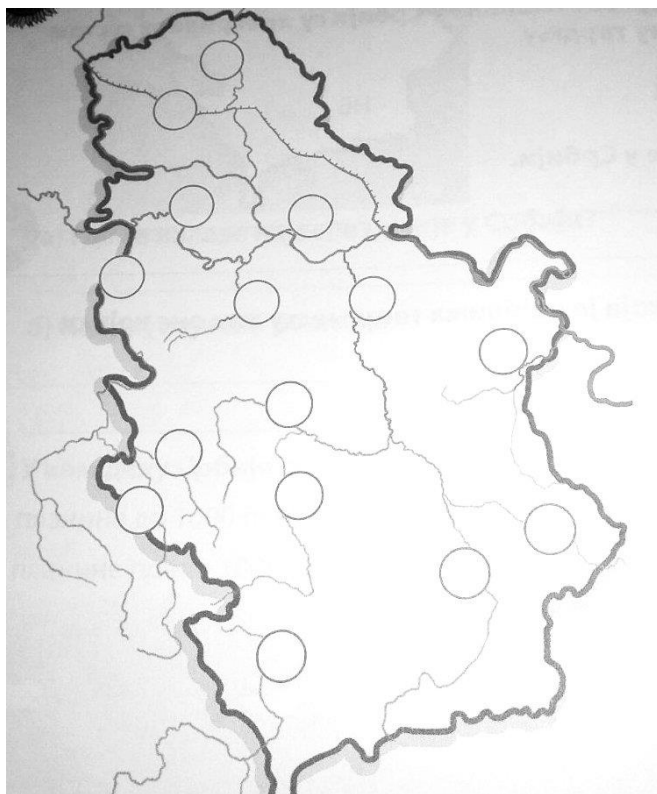


Име и презиме ученика: \_\_\_\_\_

### РЕКЕ И СЛИВОВИ У СРБИЈИ

1. Које су карактеристике река:  
а) у равници \_\_\_\_\_  
б) у планинским пределима \_\_\_\_\_
2. Пронађи Копаоник на карти Србије и допуни следеће реченице:  
а) најближа река која протиче западно од Копаоника је \_\_\_\_\_  
б) највећи град источно од Копаоника је \_\_\_\_\_
3. Повежи реке са сливовима којима припадају  
Сава  
Бели Дрим  
Драговиштица  
Тиса  
Пчиња  
Призренска Бистрица  
Егејски слив  
Црноморски слив  
Јадрански слив
4. а) Који је слив у нашој земљи највећи по својој површини? \_\_\_\_\_  
б) У коју реку се улива највећи број река у Србији? \_\_\_\_\_
5. Упиши у кружиће на некој карти бројеве којима су означене реке.



- 1) Тиса
- 2) Дунав
- 3) Сава
- 4) Колубара
- 5) Дрина
- 6) Нишава
- 7) Велика Морава
- 8) Западна Морава
- 9) Јужна Морава
- 10) Тимок
- 11) Ибар
- 12) Увац
- 13) Лим
- 14) Бели Дрим
- 15) Канал Дунав-Тиса-Дунав

6. Поред тачне тврдње напиши ДА, а поред нетачне тврдње НЕ.

Узани део речне долине је клисура \_\_\_\_\_

У јадрански слив улива се Пчиња \_\_\_\_\_

Река Тимок се налази на северу \_\_\_\_\_

Сава се улива у Дунав \_\_\_\_\_

Реке егејског слива су: Лепенац, Пчиња и Драговиштица \_\_\_\_\_

Кроз Војводину теку Велика и Западна Морава \_\_\_\_\_

7. Објасни какав је значај река у Србији за живот људи.

---

---

---

8. Зашто је Дунав важан за Србију?

---

---

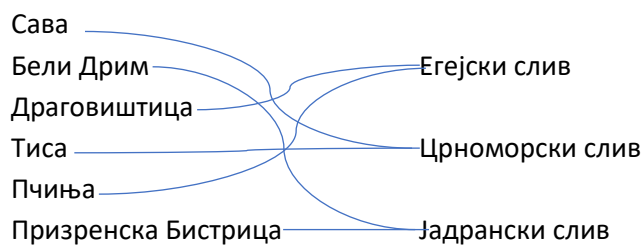
---

**Решења:**

1. Равничарске реке су шире, спорије и често погодне за пловидбу.  
Планинске реке су уже, брзе и најчешће нису погодне за пловидбу.

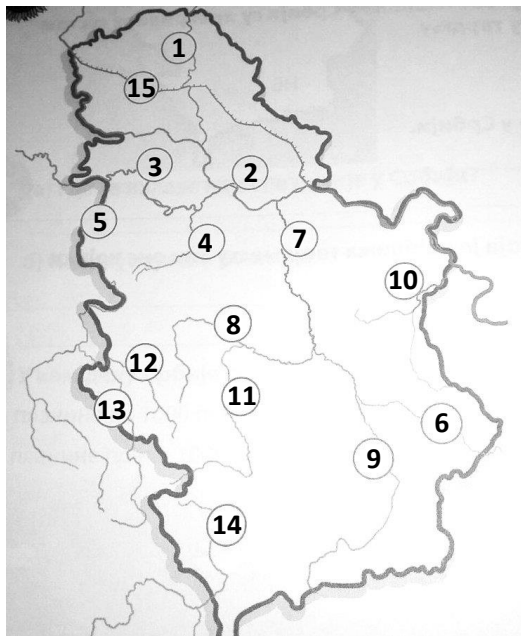
2. а) Ибар  
б) Ниш

3.



4. а) црноморски слив  
б) у Дунав

5.



6. ДА  
НЕ  
ДА  
ДА  
НЕ

7. Око река настала су прва насеља, служе за саобраћај, повезују различите краје Србије, као и Србију са суседним државама.

8. Дунав повезује Србију са 10 земаља кроз које протиче. Веома је плован и погодан за речни саобраћај.