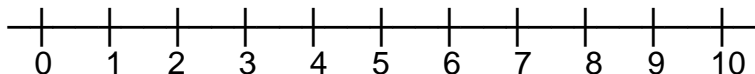


## Сабирање и одузимање до 10 – 3

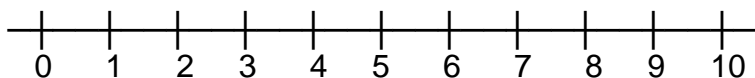
1. Израчунај збир бројева 7 и 2 и прикажи га на бројевној прави:

Рачунамо: \_\_\_\_\_



2. Израчунај разлику бројева 8 и 3 и прикажи на бројевној прави:

Рачунамо: \_\_\_\_\_



3. Маша има 2 бомбоне, а Хана 3 више.

а) Колико бомбона има Хана?      Решење: \_\_\_\_\_

Одговор: \_\_\_\_\_

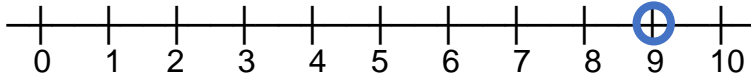
б) Колико бомбона имају заједно?    Маша \_\_\_\_    Хана \_\_\_\_\_

Решење (Маша + Хана): \_\_\_\_\_

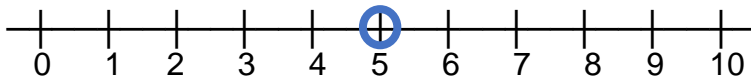
Одговор: \_\_\_\_\_

**Решења:**

1.  $7 + 2 = 9$



2.  $8 - 3 = 5$



3. а)  $2 + 3 = 5$

Хана има 5 бомбона.

б) Маша: 2 бомбоне  
Хана: 5 бомбона  
Заједно:  $5 + 2 = 7$  бомбона