

## Римски бројеви

1. Спој линијом римске цифре и одговарајуће арапске цифре или бројеве:

5	D
10	M
100	L
500	X
1	V
50	I
1000	C

2. Попуни таблицу. Дате бројеве напиши римским цифрама:

200	520	800	720	990	650	235	470	338	600

3. Дате бројеве напиши арапским цифрама:

DCX \_\_\_\_\_ ; LIV \_\_\_\_\_ ; CCCXCIX \_\_\_\_\_ ; XXXIII \_\_\_\_\_ ; CM \_\_\_\_\_

4. Напиши римским цифрама дате бројеве:

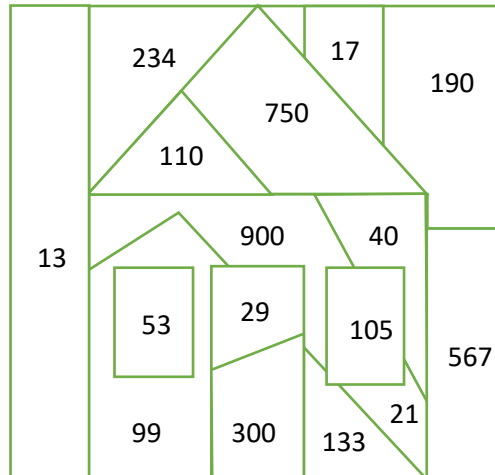
8 \_\_\_\_\_                      14 \_\_\_\_\_                      79 \_\_\_\_\_  
504 \_\_\_\_\_                      800 \_\_\_\_\_                      990 \_\_\_\_\_

5. Одреди најмањи троцифрени број који се пише различитим цифрама, а затим и највећи троцифрени број који се пише различитим цифрама. Напиши их помоћу римских бројева.

\_\_\_\_\_

6. Напиши дате бројеве арапским цифрама а затим обој поља означена тим бројевима и откриј који се предмет налази на слици.

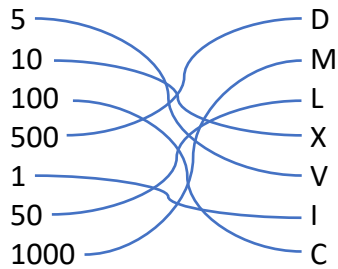
CM \_\_\_\_\_  
LIII \_\_\_\_\_  
XXI \_\_\_\_\_  
CV \_\_\_\_\_  
DCCL \_\_\_\_\_  
CCC \_\_\_\_\_



CX \_\_\_\_\_  
XL \_\_\_\_\_  
XCIX \_\_\_\_\_  
XXIX \_\_\_\_\_  
CCC \_\_\_\_\_  
CXXXIII \_\_\_\_\_

**Решења:**

1.



2.

200	520	800	720	990	650	235	470	338	600
CC	DXX	DCCC	DCCXX	CMXC	DCL	CCXXXV	CDLXX	CCCXXXVIII	DC

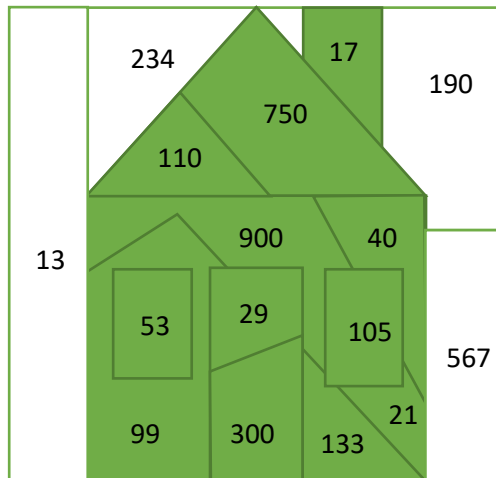
3. DCX 610 ; LIV 54 ; CCCXCIX 399 ; XXXIII 33 ; CM 900

4. 8 VIII                                      14 XIV                                      79 LXXIX  
 504 DIV                                      800 DCCC                                      990 CMXC

5. 102 CII                                      987 CMLXXXVII

6.

CM 900  
 LIII 53  
 XXI 21  
 CV 105  
 DCCL 750  
 CCC 300



CX 110  
 XL 40  
 XCIX 99  
 XXIX 29  
 XVII 17  
 CXXXIII 133