


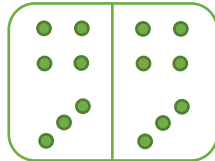


## Записивање половине – знак подељено

1. Према сликама, помоћу бројева и знака подељено запиши изразе као што је започето



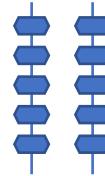
6 : 2



\_\_\_\_\_



\_\_\_\_\_



\_\_\_\_\_

2. Запиши изразе:

- Дванаест подељено са два \_\_\_\_\_
- Тридесет осам подељено са два \_\_\_\_\_
- Шеснаест подељено са два \_\_\_\_\_

3. Следеће изразе запиши речима:

- 26 : 2 \_\_\_\_\_
- 8 : 2 \_\_\_\_\_
- 46 : 2 \_\_\_\_\_

4. Графички прикажи половине следећих бројева: 6, 14, 18, 4

**Решења:**

1.  $6 : 2$        $14 : 2$        $24 : 2$        $10 : 2$

2.  $12 : 2$

$38 : 2$

$16 : 2$

3. Двадесет шест подељено са два  
осам подељено са два  
четрдесет шест подељено са два

4.

