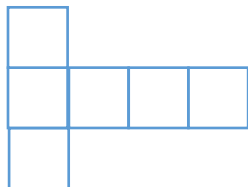


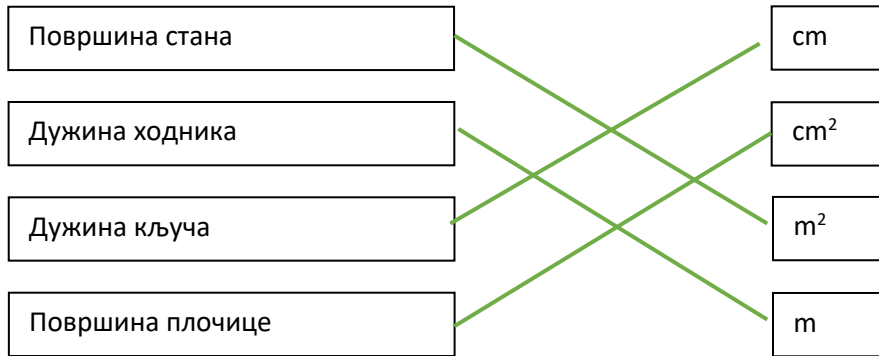


## Решења теста из математике за ученике IV разреда (Свеска 2)

1. 5 515
2. Најмање ученика је ишло на рекреативну наставу 2006. године.
3. То је број 1050
4.  $726 - (276 - 155) = 726 - 121 = 605$
5.  $5\ 861 - 217 - (586 + 189) = 5\ 644 - 775 = 4\ 869$
6. а)  $348 \cdot 6 = 2\ 088$   
б)  $348 : 6 = 58$
7.  $(924 : 4) \cdot 3 = 231 \cdot 3 = 693$  =  $(385 : 5) \cdot 9 = 77 \cdot 9 = 693$
8.  $90 : 3 = 30$
9.  $(415 - 106) : x = 3$   
 $309 : x = 3$   
 $x = 309 : 3$   
 $x = 103$
10. На слици су 3 круга, 3 квадрата и 3 троугла.
11. а) – садржи 12 јединичних квадрата.
12.  $O = 8 + 4 + 3 + 2 + 2 + 2 + 3 + 4 = 28$  cm
13. в)

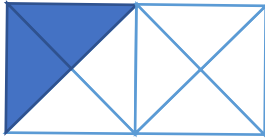


14.



15. б)  $\frac{4}{9}$

16.



17.  $600 : 4 = 150$

18.  $\frac{1}{8}$ ,  $\frac{1}{4}$ ,  $\frac{1}{2}$

19. б) Тања је понела 780 динара.

20. Стигла је у 12 сати и 15 минута.

21. Укупно је провела  $75 + 50 + 25 = 150$  минута

22. а) грам

23. 2 килограма и 500 грама је 2 500 грама

$2\ 500 : 20 = 125$  Свако парче торте има по 125 грама.

24. Најмање ученика је добило оцену 1.

25. Најнижа температура била је 31. маја и износила је 23 степени.