


## Изломљена линија



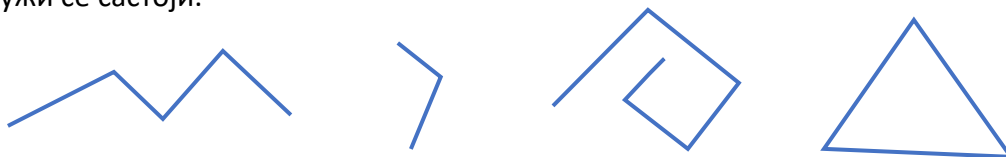
1. Изломљене отворене линије заокружи, а изломљене затворене линије обој:



2. Нацртај једну отворену и једни затворену изломљену линију.


3. Нацртај отворену изломљену линију која се састоји од 4 дужи, дужина 5 cm, 3 cm, 4 cm и 1 cm.

4. Обележи тачке на овим изломљеним линијама и напиши испод сваке од колико дужи се састоји.



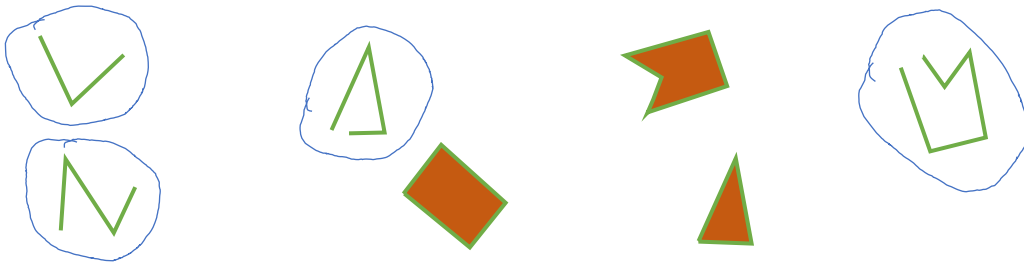
5. Нацртај једну затворену изломљену линију која се састоји од 5 дужи.

6. Доврши дату изломљену линију тако да буде затворена.




Решења:

1.



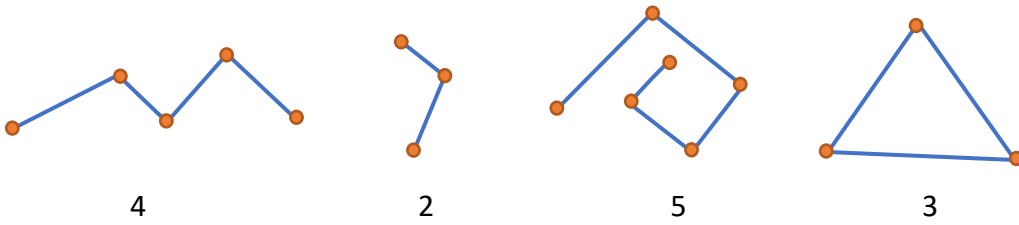
2.



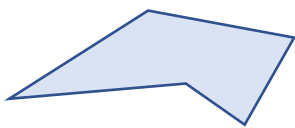
3.



4.



5.



6.

