

Име и презиме: _____

1) Шта је план насеља?

2) План насеља најчешће је подељен на неколико једнаких _____ и _____.
Сваки _____ означен је великим словом, а свака _____ бројем.

3) Објасни како можемо да се оријентишемо на плану насеља?

4) Пронађи и упиши у којим пољима се налазе:



Дунавска _____
Узун Миркова _____
Зоолошки врт _____
Кнеза Михаила _____

5) Нацртај три знака са плана града и напиши њихово значење:

6) Многи објекти у граду имају своје планове (мапе). наведи оне за које си чуо?

7) Напиши ДА или НЕ поред тврдњи, у зависности да ли су оне тачне или нису?

За све планове важи правило да је исток увек десно, а запад лево. север горе, а југ доле.

На плану насеља реке, језера и остале бодје су означене плавом бојом, а паркови и друге зелене површине зеленом.

У плану насеља налази се умањени приказ распореда улица, важних зграда, тргова, паркова, споменика, гледаних одозго.









Да бисмо се боље оријентисали не помаже нам план насеља.

План садржи списак улица и важних објеката поређаних по азбучном реду.

8) По узору на мапу града, нацртај мапу где се налази твоја улица и пар улица које је секу:

Решење:

- 1) План насеља је умањени приказ распореда улица, важних зграда, тргова, паркова, споменика, гледаних одозго.
- 2) ..једнаких редова и колона. Сваки ред, означен је великим словом, а свака колона бројем.
- 3) Када тражимо неки објекат или улицу погледамо списак и пронађемо којим су словом и бројем означени. Затим погледамо на плану квадрат где је уцртан тај објекат, односно улица.
- 4) E8, F8, E8, F8
- 5)

	позориште		здравствене установе
	музеј		полиција
	споменик, кула		пошта
	црква, џамија		информације

- 6) музеј, стадион, Зоо врт, тржни центар
- 7) да, да, да, не, да