

ДУЖ, ПОЛУПРАВА, ПРАВА, ИЗЛОМЉЕНА ЛИНИЈА



1. Нацртај једну:

А) праву линију

Б) криву линију

В) изломљену отворену линију

Г) изломљену затворену криву линију

Д) полуправу

2. Од места М до места Н води једна права, једна крива и једна права изломљена линија. Нацртај те линије. Који је пут најкраћи?

●
М

●
Н

3. Нацртај три дужи које имају заједничку тачку А.


●
А

Решења:

1. а)



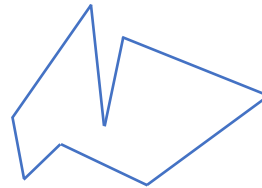
б)



в)



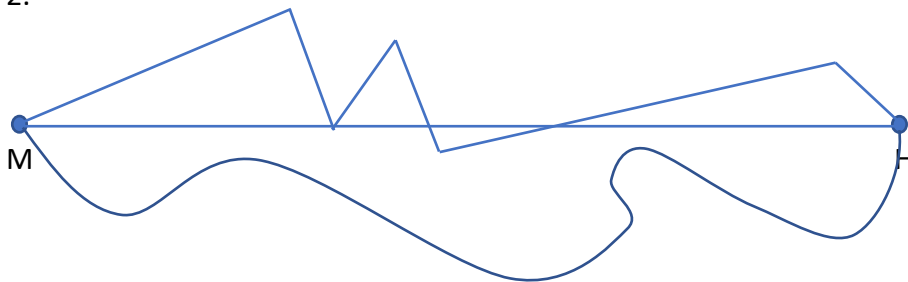
г)



д)



2.



Најкраћи је пут који води правом линијом.

3.

